



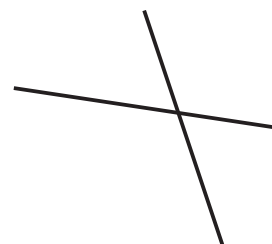
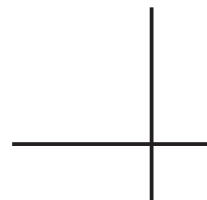
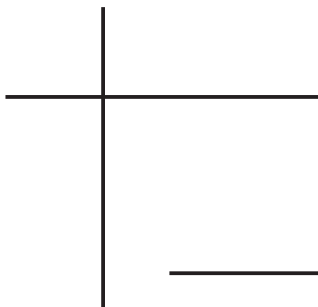
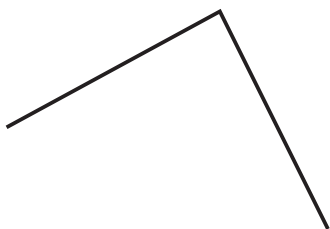
Karta pracy

Klasa 3 – luty – blok 1 – dzień 1

## Odcinki prostopadłe


### Zadanie 1

Odszukaj pary odcinków prostopadłych i pokoloruj je na czerwono.



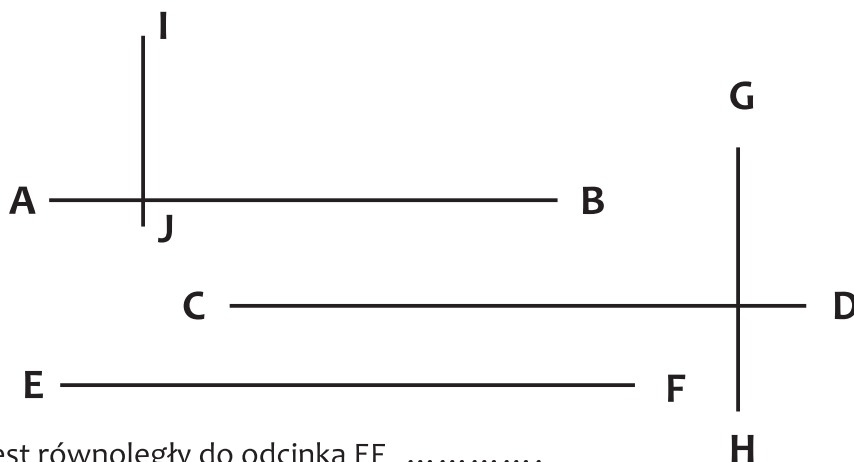
### Zadanie 2

Zaznacz na niebiesko pary odcinków prostopadłych.



### Zadanie 3

Przyjrzyj się uważnie rysunkom. Przeczytaj zamieszczone poniżej zdania i zapisz odpowiedź TAK lub NIE.



Odcinek CD jest równoległy do odcinka EF .....

Odcinek IJ jest prostopadły do odcinka AB .....

Odcinek GH jest prostopadły do odcinka GH .....